




SATRANÇ DÜNYASI

Kahraman OLGAC



DÜNYA SATRANÇ ŞAMPİYONLUĞU - MOSKOVA 1985

Kasparov, 19. oyunu kazanarak iki puan ileriye geçti. Gelecek ay vereceğim 22. oyundan sonra okuyucularım maçın beraberlikler dışındaki bütün oyunlarını elde etmiş olacaklar. Bu arada, Kasparov-Karpov 1986 rövaşş maçı da Temmuz ayı sonunda Londra'da başlayacak. Aynı şekilde oyunları vermeye devam edeceğiz.

KASPAROV-KARPOV, MAÇIN ONDOKUZUNCU OYUNU NİMZO-HİND SAVUNMASI

1.d4 Af6 2.c4 e6 3.Ac3 Fb4 4.Af3 Ae4 (Bu varyant Karpov'a yaramıyor.) 5.Vc2 f5 6.g3 (Burada enteresan bir devam yolu daha vardı. 6.g4! c5 7.gxf5 Fxc3 8.bxc3 exf5 9.Ad2 d5 10.cxd5 Axd2 11.Vxd2 Vxd5 12.Kg1 aktif bir oyun. Ya da 6.g4 fxd4 7.Ae5 Fxc3 8.bxc3 Af6 9.Fg5 beyazın avantajı var.) 6..Ac6 (Yeni bir hamle!) 7.Fg2 0-0 8.0-0 Fxc3 9.bxc3 Aa5 10.c5 d6?! (Daha iyi bir devam vardı. 10..b6 11.c4 bxc5! 12.Ad2 Axd2 13.Fxd2 Fb7) 11.c4! b6? (Şimdi iş işten geçti. 11..dxc5 12.dxc5 Ac6! lazımdı.) 12.Fd2 Axd2 13.Axd2 d5 (13..Fb7 14.Fxb7 Axb7 15.c6 Aa5 16.d5 yaraya merhem olmazdı.) 14.cxd5 exd5 15.e3 Fe6 (Oyunun buraya kadarki kısmında Kasparov açık üstün durumda. Siyahın fili kötü, atı oyundışında. c hattı ve e5 karesi rakibin kontrolünde.) 16.Vc3 Kf7 17.Kfc1 Kab8 18.Kab1 Ke7 19.a4 Ff7 20.Ff1 h6 (Vezir kanadında ümit olmadığından siyah, şah kanadında bir karşı hücum düşünüyor.) 21.Fd3 Vd7 22.Vc2 Fe6 23.Fb5 Vd8 24.Kd1! g5 25. Af3 Kg7?! 26.Ae5 f4? 27.Ff1! Vf6 28.Fg2 Kd8 29.e4! dxe4 30.Fxe4 Ke7 31.Vc3 Fd5 32.Ke1 Şg7 33.Ag4! Vf7 34.Fxd5 Kxd5 35.Kxe7 Vxe7 36.Ke1 Vd8 37.Ae5 (38.Vc2 ile tehdit ediyor.) 37..Vf6 38.cxb6 Vxb6 (38..cxb6 hamlesine karşı 39.Vc7 vardı.) 39.gxf4 Kxd4? (Büyük zaman sıkışması içinde kıvranan Karpov sonu çabuklaştırıyor. Aslında kurtuluş ümidi yok. 39..gxf4 40.Vf3 Ve6 41.Vg2 Şh7 42.Ve4 Şg7 43.Şh1 ve arkasından 44. Kg1 Azrail gibi!) 40.Af3 Ab3 41.Kb1 Vf6 42.Vxc7 Oyun burada ertelendi. Fakat ertesi gün Karpov oyuna devam etmeyeceğini bildirerek mağlubiyeti kabul etti.

Karpov (hamlede)




Kasparov 25. Af3


SİZ OLSAYDINIZ?



1) Siyah piyade çatalı ile tehdit ediyor. Beyaz 1.Ke1 yaparak çataldan korkmadığını belirtiyor. Acaba, doğru mu? Siz ne dersiniz?



2) Siyah, bir at çatalı yemiş ama parlak hamlelerle vartayı atarak oyunu kazanır. Biraz uğraşsanız belki siz de bulursunuz.



3) Beyaz, şahane hamlelerle oyunu alır. Feda ile başlayan bu güzel kombinasyonu bulabilecek misiniz?

Yanıtlar 35. sayfadadır.