




ZEKASAYAR

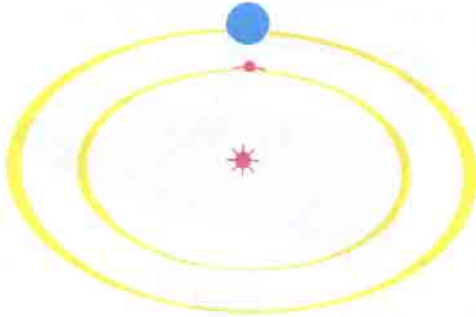
EMREHAN HALICI

TOPLA 108

Aşağıdaki şekilde bulunan sayılara 3 adet ok atarak 108 toplamını elde etmek istiyorsunuz. Bunu kaç değişik şekilde gerçekleştirebilirsiniz?



GEZEĞEN VE UYDU



Bir gezegen ve uydusu Güneş etrafında dönmektedir. Başlangıç anında Güneş, gezegen ve uydu bir doğru çizgi üzerindedir. Gezegen yörüngesini 19 yılda, uydu ise 8 yılda tamamlamaktadır. Bu üçlü, yeni bir doğru çizgiyi kaç yıl sonra oluştururlar?

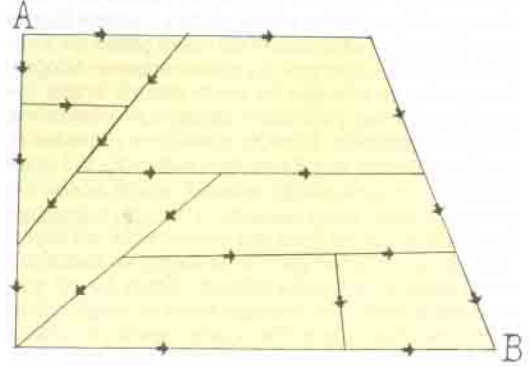
TAHMİN

Üç arkadaş bir kutudaki top sayısı ile ilgili şu üç tahmini yaparlar: 43, 34, 41. Hepsisi de hatalı olan bu tahminlerden birisindeki hata 6 top, diğerinde 3, di-


ğerinde ise 1 toptur. Kutuda kaç adet top olduğunu bulunuz.

KAÇ DEĞİŞİK YOL

A'dan B'ye kaç değişik yoldan ulaşabilirsiniz?



İLERİYE GİDEN SAAT



Aşağıdaki bilgileri değerlendiriniz:

1. Saatinizi 24.00'te kuruyorsunuz.
2. Saatiniz her saatte 3 dakika ileri gidiyor.
3. Belli bir müddet sonra baktığınızda saatiniz 5.15'i gösteriyor.
4. Biliyorsunuz ki, saatiniz tam 1 saat önce durmuş.

Şu an saatin kaç olduğunu bulabilir misiniz?

(Düşünme Kutusu'nun cevapları 25. sayfadadır.)