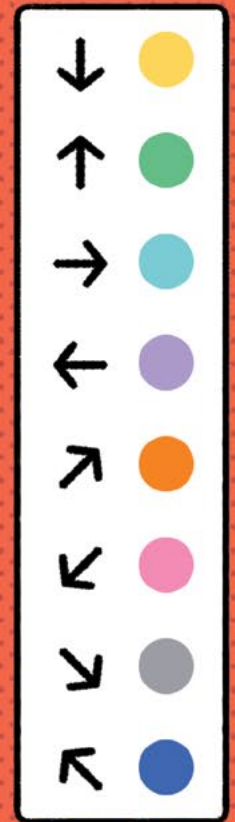
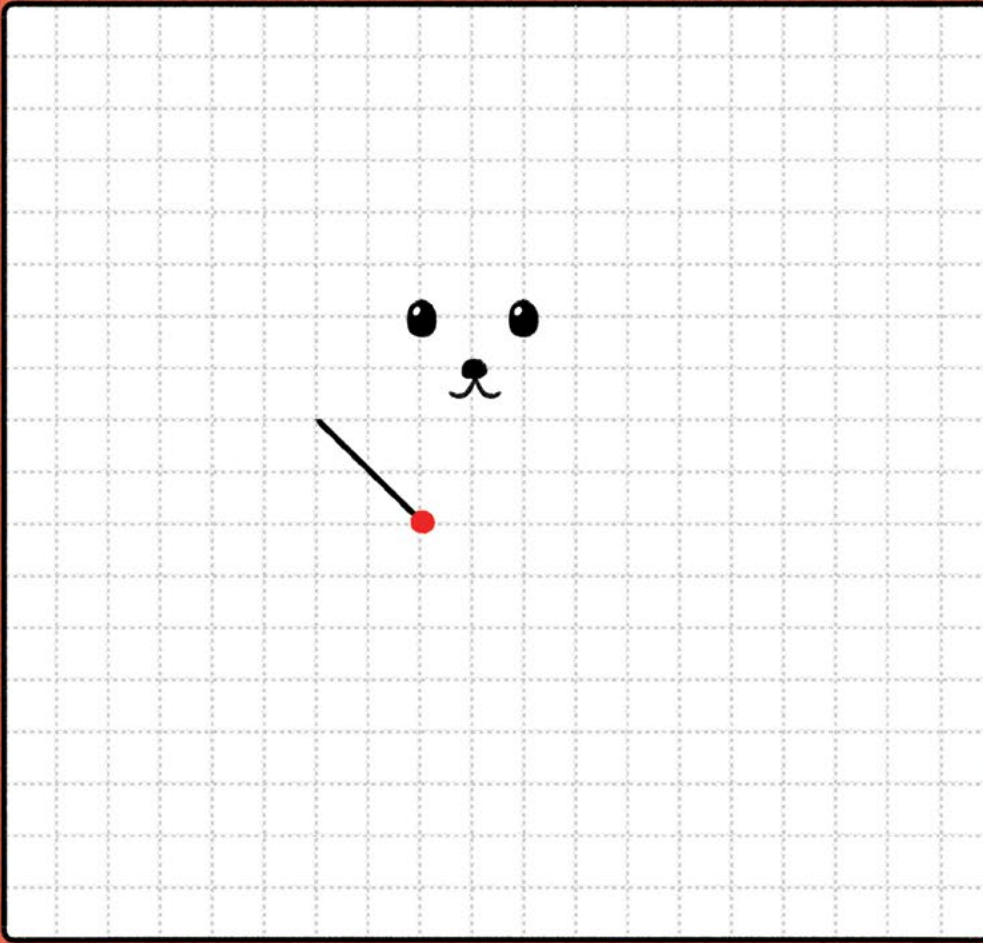


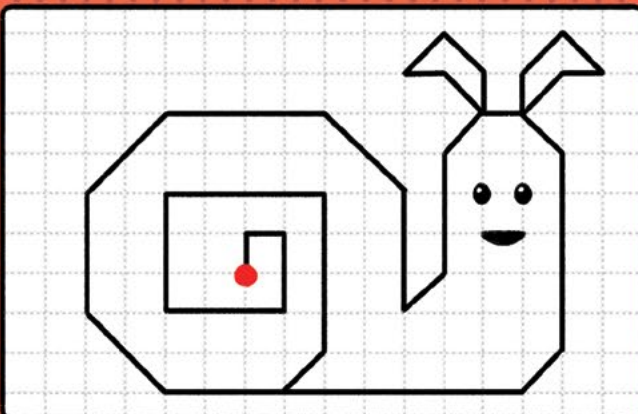
# Renkler ve Yönler

Size ayırdığımız kareli alanda çizim yapmaya ne dersiniz? Verdiğimiz kodlardan yola çıkarak hareket etmeniz gerekiyor. Kodlarda bulunan rakamlar kaç birim hareket edeceğinizi, renklerle tablodaki gibi hangi yönde ilerleyeceğinizi gösteriyor. Örneğin "3 ●" kodu varsa üç birim yukarı ilerleyeceksiniz. Başlangıcı biz yaptık bile!

2 ✓ 3 ● 1 ● 1 ● 1 ● 3 ● 1 ● 3 ● 1 ● 2 ● 2 ● 1 ●  
1 ● 3 ● 1 ● 3 ● 1 ● 1 ● 1 ● 3 ● 2 ● 2 ● 1 ● 1 ● 1 ●  
1 ● 1 ● 1 ● 1 ● 1 ● 1 ● 1 ● 1 ● 1 ● 2 ● 1 ● 8 ● 1 ● 5 ● 1 ●



Şimdi kod yazma sırası sizde. Bu çizimin kodlarını başlangıç noktasından başlayıp aynı kodlama sistemini kullanarak yandaki boşluğa yazabilir misiniz?



Blank lined area for writing the code.

Yanıt 64. sayfada.

Merve Çelik  
Çizim: Umut Aybek