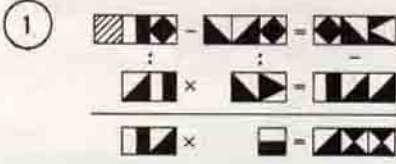


Düşünme Kutusu




40/70

BU AYIN 4 PROBLEMİ



Her kare bir rakamı göstermektedir. Aynı kareler aynı rakamları gösterirler. Deneyerek, düşünerek ve hesap ederek karelerin yerine uyacak rakamlar koyunuz ve yukardaki yatay ve düşey işlemleri tamamlayınız.




3 kibrit çıkararak geriye 3 kare bırakın.


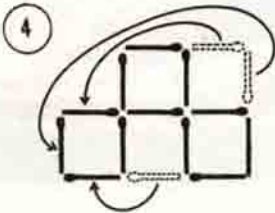
İki kibrit çıkararak 2 kare yapın.



10 ağacı beş sıra üzerinde her sırada 4 ağaç olmak üzere dikin.



GEÇEN SAYIDAKİ PROBLEMLERİN ÇÖZÜMÜ :



1

201	-	159	=	42
+		+		×
164	-	148	=	16
366	+	307	=	672

