




Rıhtımdaki Balıkçı Tekneleri

Tüm tekneler gibi balıkçı teknelerinin de tasarımları ve büyüklükleri farklı farklı olabilir. Bu resimde üç çeşit balıkçı teknesi var. Resmi inceleyip hangi tekne çeşidinden kaç tane olduğunu sayabilir misin?





Yandaki şekilde, her bir tekne çeşidinin altında boş kutucuklar var. Bu kutucuklara tekne çeşitlerinin sayısı kadar çarpı (X) işareti koy.

		
<input type="checkbox"/>	<input type="checkbox"/>	<input type="checkbox"/>
<input type="checkbox"/>	<input type="checkbox"/>	<input type="checkbox"/>
<input type="checkbox"/>	<input type="checkbox"/>	<input type="checkbox"/>
<input type="checkbox"/>	<input type="checkbox"/>	<input type="checkbox"/>

