

# Hayvanlarla Matematik Etkinlik Kitapçığı

Bu kitapçığın sahibi:

.....

# Köstebeğin Yuvası

Köstebek Tırtır yuvasına gitmek istiyor. Ama önce 1'den 10'a kadar numaralandırılmış taşları sırayla toplamalı. Haydi eline kalemini al. Taşları 1'den başlayarak sırayla takip et ve Tırtır'ı yuvasına götür.







# Postane Sırası

Postanede sıraya geçmiş bekleyen hayvanları görüyor musun?  
Her biri yanlarında getirdikleri kargo paketlerini sevdiklerine gönderecek.  
Sen de ilk önce sıradakileri incele sonra da sorularımızı yanıtla.



Birinci sırada  
kim var?

Beşinci sırada  
kim var?



Sıranın en sonundaki kim?

Sıradakilerden en uzun boylu olan kim?

Yanında en çok kargo paketi getiren kim?

En küçük paketi kim taşıyor?



## Pasta Dilimleri

Bugün fare Çıtçıt'ın doğum günü. Masada kocaman bir pasta var ve çok lezzetli görünüyor. Pastayı konuklara sen paylaşmak ister misin? Bunun için dergimizin ekindeki çıkartmaların arasından pasta dilimlerini bulup tabaklara ikişer ikişer dağıtabilirsin.






Sence Çıtçıt kaç yaşına girmiş olabilir?



# Hasat Zamanı


Bugün ormanda hasat günü. Ormandaki hayvanlar elma, armut, nar ve limon toplayacak. Hangi sepette kaç meyve var, haydi hesaplayalım.



Sepette kaç elma var?




Kaç elma daha eklendi?



Sepette kaç armut var?




Kaç armut daha eklendi?



Sepette kaç nar var?



Kaç nar daha eklendi?



Sepette kaç limon var?




Kaç limon daha eklendi?





=



Toplam kaç elma oldu?




=



Toplam kaç armut oldu?




=



Toplam kaç nar oldu?



=



Toplam kaç limon oldu?



# Kayıp Parçalar

Aşağıda gördüğün ahşap blokların öteki yarıları odanın içinde kaybolmuş. Kayıp parçaları bulup işaretleyebilir misin?








# Oyun Parkında



Burada ne kadar çok yavru hayvan var! Hepsi de parkta çok eğleniyor. Sen de bu sayfaları dikkatle incele ve sorularımızı yanıtla.





Parkta en çok hangi geometrik şekli görüyorsun?

Üçgen, kare, üçgen, kare... Haydi örüntü şeklinde ilerleyen bu yoldaki boş yerleri tamamla.



# Minik Pandalar Sınıfı

Minik Pandalar Sınıfı'nda bazı eşyalar eksik görünüyor. Bu eşyaları dergimizin ekindeki çıkartmalar arasından bulup doğru yerlerine yerleştirebilir misin?

İşte eşyaların koyulacağı yerler:

- Oyuncak araba, oyuncak sepetinin içine.
- Dinozor kitabı, kitaplık ve oyuncak sepetinin arasına.
- Top, masanın altına.
- Kalemlik, masanın üstüne.







