

ZEKASAYAR

EMREHAN HALICI

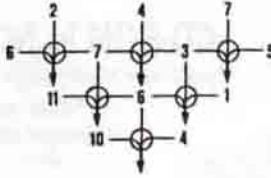
VİDALAR

Şekilde görülen tahta vidalar ok yönünde döndürülüğünde ne olur (Vidalar birbirlerine yaklaşır mı, uzaklaşır mı, aynı mı kalır)?




OKLAR

En alttaki oka hangi sayı gelecek?



SIRAYA KOYUN

Bir kazayla ilgili art arda çizilmiş dört resim aşağıda görülmüyor. Karışık olan bu resimleri sıraya dize misiniz?



ÜÇ BLOK

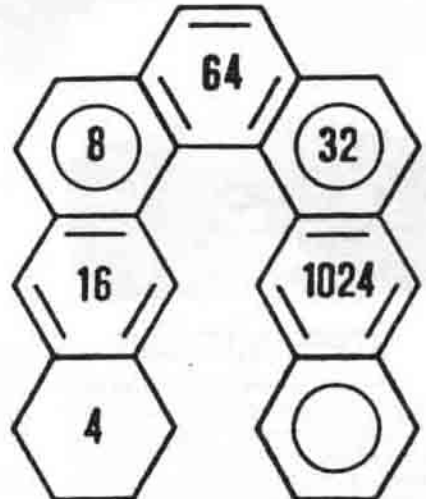
6 adet para, şekilde görüldüğü gibi üç blok halinde dizilmiştir. Arkadaşınızla şöyle bir oyun oynuyorsunuz:

1. Sırayla para alıyorsunuz.
 2. Sırası gelen kişi, istediği bir bloktan ya bir adet para ya da o bloktaki paraların tümünü alıyor.
 3. Son parayı alan oyunu kaybediyor.
- Oyuna ilk siz başlarsanız, ne yapardınız?



BEŞGENLER

Boş olan beşgene hangi sayı gelecek?



(Geçen sayıdaki düşünme kutusunun cevapları 716. sayfadadır.)