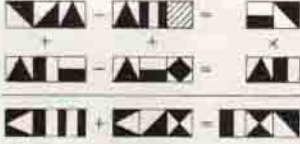


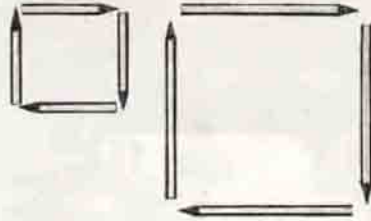
Düşünme Kutusu



BU AYIN 4 PROBLEMİ




- 1 Her kare bir rakamı göstermektedir. Aynı kareler aynı rakamları gösterirler. Deneyerek, düşünerek ve hesap ederek karelerin yerine uyacak rakamları koyunuz ve yukarıdaki yatay ve dikey işlemleri tamamlayınız.



2

Şekilde gördüğünüz 8 kalem den hiçbirinin boyunu değiştirmeden birbirine eşit büyüklükte 3 kare yapınız, hiç bir kalemin ucu kenardan dışarı çıkmayacaktır.

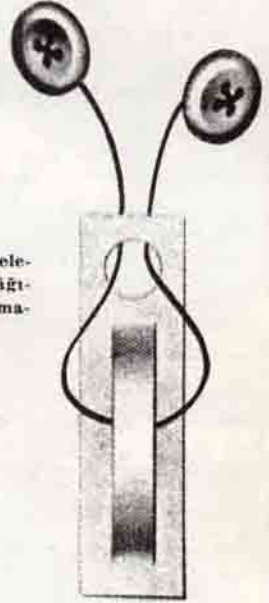


3

Şekilde gördüğünüz düğmeleri ve bağlı oldukları ipli kâğıdı yırtmadan ve ipli koparmadan dışarı çıkarınız.

4

Gördüğünüz dört kareden aynı büyüklükte 3 kare yapacak şekilde 3 kibritin yerlerini değiştiriniz, geriye hiç bir kibrit kalmayacaktır.



GEÇEN SAYIDAKİ PROBLEMLERİN ÇÖZÜMÜ :

1

$$\begin{array}{r} 457 \\ + 512 \\ \hline 969 \end{array} \quad \begin{array}{r} 369 \\ + 480 \\ \hline 849 \end{array} \quad \begin{array}{r} 88 \\ + 32 \\ \hline 120 \end{array}$$

