

1

Her kare bir rakamı göstermektedir. Aynı kareler aynı rakamları gösterirler. Deneyerek, düşünerek ve hesap ederek karelerin yerine uyacak rakamları koyunuz ve yukarıdaki yatay ve dikey işlemleri tamamlayınız.


Kim suyu içiyor?
Zebra kimindir?

3

1. Önünüzde değişik renklerde boyanmış 5 ev vardır. Sahipleri de değişik milletlerdendir ve her birinin değişik hayvanları vardır. Her biri başka başka içkileri severler ve değişik tütün içerler.
2. İngiliz kırmızı evde oturmaktadır.
3. İspanyolun köpeği vardır.
4. Yeşil evde kahve içilir.
5. Ukraynalı çay içer.
6. Yeşil ev —sizin bakış yönünüzden— beyaz evin yanındadır.
7. Sigara içenin merakı sümüklü böcek toplamaktır.
8. Püro için sarı evde oturur.
9. Ortadaki evde oturan süttten başka bir şey içmez.
10. Norveçli soldan birinci evde oturur.
11. Pipo için adam tükisil olan adamın yanındaki evde oturur.
12. Püro için adam atı olan adamın yanındaki evde oturur.
13. Sigarasını kendi saran adam limonata içer.
14. Japon sigarillo tütürmeği pek sever.
15. Norveçli mavi evin yanındaki evde oturur.

Şimdi şu soruların cevabı isteniyor:

16. Kim su içer?
17. Zebra kime aittir?



2

- Bir kibrit oyunu
Şekilde görülen 12 eşit uzunlukta kibritten sunların yapılması istenmektedir.
- a) Şekilden iki kibrit çıkarılacak ve yalnız iki kare kalacaktır.
 - b) Dört kibritin yeri değiştirilecek ve birbirinin aynı üç kare meydana gelecektir.
 - c) 11 kibritten birbirine eşit üç kare yapılacaktır.
 - d) 10 kibritten birbirine eşit üç kare yapılacaktır.
 - e) 5 kibritle 8 dik açi meydana getirilecektir.

GEÇEN SAYIDAKİ

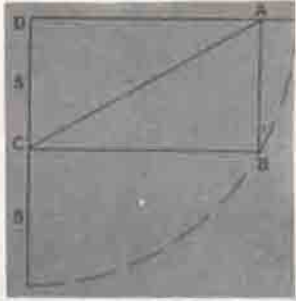
PROBLEMLERİN ÇÖZÜMÜ

836	-	388	=	448
22	+	213	=	235
38	+	176	=	213

1


4

Köşegenin uzunluğu ne kadardır? Bir dairenin dörtte biri içine bir dikdörtgen çizilmiştir. Şekilde verilen ölçülere göre AC köşegeninin tam uzunluğu ne kadardır?



4

Kalın kara çizgiden keser ve kesilen parçayı sağa doğru 90° çevirirseniz, iki parçanın birbirine uyarak 64 karell büyük bir kare meydana geldiğini görürsünüz.



2

Çek 31 lira 63 kuruşlukta, O kasadan 63 lira 31 kuruş aldı. 5 kuruşu düğürdükten sonra cebinde 63 lira 26 kuruş kaldı ki bu da çekin iki katıdır.

3

Demochares tam 60 yaşına kadar yaşadı.