


# DÜŞÜNME KUTUSU

Doç. Dr. Selçuk ALSAN

## BUL KAREYİ, SAR YARAYI

X, bir operasyon sonucu Y şekline getirilmiştir. Z üzerinde aynı tip operasyon tekrarlanarak, A, B, C ve D'den biri elde edilmiştir. X'i Y haline getiren yöntemleri Z üzerinde tekrarlıyorsanız A, B, C ve D'den hangisini elde edersiniz? (Çözüm süresi: 15 saniye)



## ÇALAR SAAT-

İki çalarsaatiniz var, birini 1 saat için kurarsınız, 50 dakika sonra çalıyor. Diğeri için yine 1 saat için kurarsanız, 70 dakika sonra çalıyor. ne yazık ki, ikisinin dıştan ayırtılmak olası değil. 30 dakika sonra çalarsaatli bir kereden fazla kurmamak şartı ile bunu nasıl sağlarsınız?

## SORU İŞARETİ

$$797 \times 97 = 77817$$

Soru işaretleri yerine hangi sayı gelecek? (Bütün soru işaretleri yerine aynı sayı konacak)

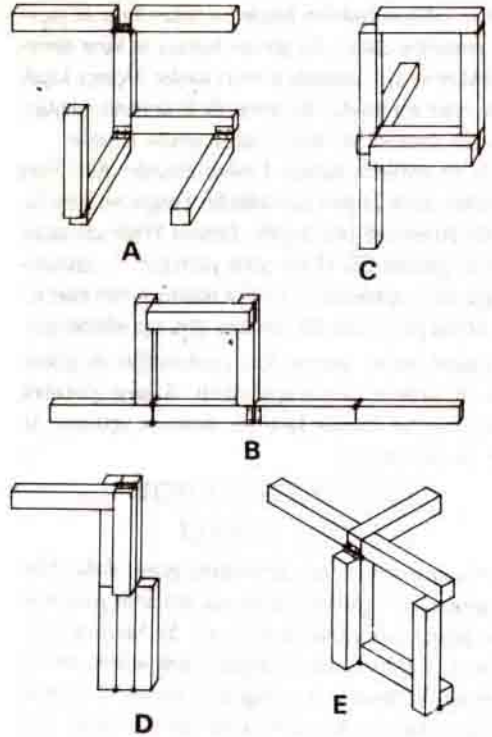
## ZEHİR ŞİŞELERİ

Aşağıdaki şişelerden birinde gençlik iksiri, birinde zehir, üçüncüde biri veya diğeri vardır. Zehir içeren şişenin üstündeki etiket yanlıştır. Diğer şişeye veya şişelerin üstündeki etiketler ise doğrudur. Siz olsanız hangi şişeyi içerdiniz?



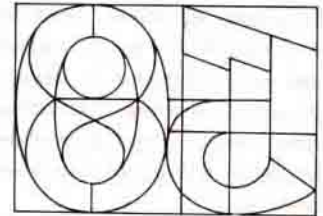
## ODUNLU PROBLEM

Resimde menteşe ile bağlı 7 tahta parçasından oluşmuş 5. şekil görülmektedir. Menteşeler katlanarak bçimleri değıştirilen bu 5 şekilden 4'ünden farklıdır?



## SAKLI SAYI

21 adet parçayı karalayarak iki hanelli ve 8 ile bölünebilir bir sayı yaratınız.



## NOKTA

Üç karenin daha ortalarına birer nokta koyunuz; öyle ki, dikdörtgendeki her kare yatay, dikey ya da çapraz olarak en az bir nokta ile aynı doğru üzerinde olsun?

	1	2	3	4	5	6	7	8	9	10	11	12
A												
B												
C												
D												
E												

Geçen sayımızdaki 'ZEKAŞAYAR' köşemizde yer alan soruların yanıtları 16. sayımızdadır.