

İÇİÇE KELİMELER

Mayıs ayında yayınladığımız İçİçe Kelimeler'le ilgili pekçok okuyucumuzdan mektup aldık. Bu tür oyunlara ilerideki sayılarımızda da devam edeceğiz. Okuyucularımızın çalışmalarından en ilginç bulduğumuz birkaçını yayınlıyoruz. Yeni öneri ve çalışmalarınızı bekliyoruz.

Mahmut Tarhan:

EN HAKİKİ MÜRŞİT İLİMDİR
ENLİ, HAKİ, KIR, MÜRİT, ŞİMDİ

Selçuk Türkmen:

CENNET TÜRKİYE
CENK, NİYE, ET, TÜR

Tezel Erdalli, İlker Ulum

ÖZGÜRLÜK

ÖZLÜK, GÜR

BİLETLER

Bir demiryolu şirketinde her istasyondan diğer istasyonlara bilet satılmaktadır. Bu istasyonlar zincirine çift sayıda yeni istasyon eklenince 46 adet ekstra bilet bastırmak gerekmiştir. Başlangıçta kaç istasyon vardı ve yeni kaç istasyon eklenmiştir?

SAYI BİLMECESİ

Sayı karesindeki boş yerlere uygun sayılar koyarak, yatay ve dikey tüm eşitlikleri gerçekleştirin.

36	+	=	-	-	=	22
-	-	-	-	-	-	-
-	+	=	25	-	=	-
=	=	=	=	=	=	=
-	+	7	=	-	9	=
+	+	+	+	+	+	+
-	+	=	26	-	=	-
=	=	=	=	=	=	=
31	+	=	-	-	=	37

MİNİ TEST

Soru işaretlerinin yerlerine uygun harf ve sayıları yerleştirin. Dördüncü soruda ise diğerlerinden farklı olan şekli bulun.

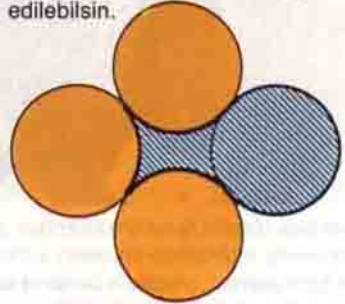
- 1) DAN, DIY, FYO, ĞRI, MAS, ?
2) 6, 10, 18, 34, ?

CEVAPLAR:

- 1) NKA 2) 66 3) 21 4) 4

DAİREDEN KAREYE

Taralı alanı iki düz makas darbesiyle öyle 3 parçaya ayırın ki, bu 3 parça birleştirildiğinde 1 kare elde edilebilsin.




BİSİKLET

Şekilde görülen bisikletin pedalına bir ip bağlanmıştır. Bir kişi bisikletin dengesini sağlamak üzere selesinden hafifçe tutarken başka bir kişi de bu ipi kendisine doğru çekmektedir.

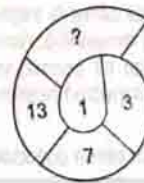
Aşağıdakilerden hangisi doğrudur?

- a) Bisiklet geriye doğru hareket eder.
b) Bisiklet ileriye doğru hareket eder.
c) Hareket etmez.



Geçen sayımızdaki "DÜŞÜNME KUTUSU" sayfasında yer alan soruların yanıtları 33. sayfadadır.

3)



4)

