



GENÇLERE SATRANÇ DERSLERİ – III –


Kahraman OLGAC



1



2



3




Fil'in
resmi :

Fil'in
kısaltılmış
adı : F



4



5

Satranç tahtasında tanıştığınız Filler çok eskidenberi savaşlarda kullanılmışlardır. Şimdiki Tanklar gibi.

Ünlü ordusu ile Alp'leri geçen Kartacalı komutan Anibal'in savaş Filleri vardı. Aynı şekilde Büyük Timur Yıldırım Bayazıt karşısındaki zaferini büyük çapta ordusunda Fil bulundurmaya borçludur.

Filler çapraz karelerde hareket ederler. (Konum : 1) Hareket alanlarına giren düşman taşlarını (isterlerse) ortadan kaldırırlar.

Konum : 2 deki durumu inceleyelim. (b2) karesindeki beyaz Fil, (h8) karesindeki siyah Kale'yi alabilir. Çünkü siyah Kale Fil'in ateş alanında duruyor. Şimdi ne olacak? Konum : 3 Olayın sonunu gösteriyor. Beyaz Fil gitmiş (h8) karesine oturmuş. Siyah Kale ise oyun alanı dışına atılmış. Bu olayı anlatırken "Beyaz Fil, siyah kaleyi aldı" ya da "vedi" deriz. Ayrıca bu olayı yazmak istersek satranç alfabesini bilmek gerek. Önce, hamle yani oynama sırasının beyazlarda olduğunu gösteren 1 sayısı sonra bir (.) işareti ve Fil'in kısaltılmış adı olan büyük (F) harfini, Fil'in bulunduğu karenin harf ve sayısını yazar taş alma, taş yeme anlamına gelen X işaretini kor, en sona da alınan taşın adresini ekleriz. Bütün bu anlattığımız şeylerin yazılması şöyle olur : 1.Fb2 x h8.

Konum : 4 ve 5 deki olay bir Filin bir Atı yemesini gösteriyor. Bunu da hemen satranç diline çevirerek yazabiliriz.

1.Fg3 x e5 Bu yazının konuştuğumuz dile çevrilmesi şöyle : g3 deki Fil, e5 deki Atı yedi.

ALİŞTİRMALAR :


1. (d4) karesinde oturan beyaz Fil, tahtadaki taşlardan hangisini yiyemez?

(oturuyor.)


(c2 deki eti yiyemez, çünkü beyaz karede)

2. Beyaz Fil siyah Kaleyi kaç hamlede yiyebilir ?

(iki hamlede)



1



2