

3 KUTU

Altın, gümüş ve bronzdan yapılmış olan üç kutudan sadece birinin içinde bir adet top bulunmaktadır. Kutuların üzerinde şu önermeler yazmaktadır:

ALTIN

GÜMÜŞ

BRONZ

Top, Gümüş kutuda değildir.

Top, bu kutuda değildir.

Top, bu kutudadır.

Bu önermelerden en az birinin doğru ve en az birinin de yanlış olduğunu söylersek, topun hangi kutuda olduğunu bulabilir misiniz?

KAYIK VE PARA

Yüzme havuzunda bir kayık var. Hangi durumda havuzdaki su seviyesi daha çok yükselir?

- Metal bir para kayığa atıldığında
- Metal bir para havuza atıldığında



SATRANÇ TURNUVASI

Bir satranç turnuvasına 24 kişi katılmaktadır. Bu 24 kişi sayıları farklı olan A ve B gruplarına bölünmüştür. Her satranççı grubundaki diğer satranççılarla bir kez karşılaşacaktır. Turnuva so-

nunda B grubunda, A grubuna göre 69 maç daha fazla yapılmış ve A grubunda oynayan Bay X, hiç yenilmeden 5.5 puan toplamıştır. Sorumuz şu: Bay X'in kaç maçı beraberlikle bitmiştir?

(Satrançta galibiyet 1, beraberlik 0.5, mağlubiyet ise 0 puanla değerlendirilir.)

YAP-BOZ

1) Bir yap-boz bilmecesi 100 parçadan oluşmuştur.

2) Bir ya da daha fazla parçadan oluşan gruplara blok adı verilmektedir.

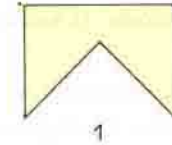
3) İki bloku yanyana getirme işlemine "Hareket" denilmektedir.

Bu yap-boz bilmecesini tamamlamak için en az kaç "Hareket" yapmak gerekmektedir?

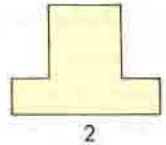


İKİ ŞEKİL

Birinci şekilden yalnızca bir düz makas darbesiyle elde edeceğimiz parçaları birleştirerek ikinci şekli elde ediniz.



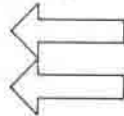
1



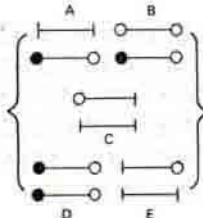
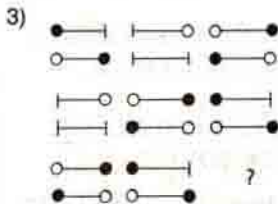
2

MİNİ TEST

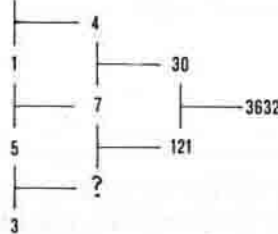
1) İki doğru ekleyerek üçüncü bir ok elde ediniz.



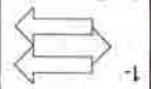
2) 63, 31, ?, 7



4) 2



4-17
3-E
2-15



CEVAPLAR :

Geçen sayıdaki Düşünme Kutusu'nun cevapları 11. sayfadadır.