

Düşünme Kutusu



SATRANÇ PROBLEMLERİ

No : 26, Üç hamlede mat

Taşlar :

Beyaz : Şf6, Vb1, Kd8, Fc8

Siyah : Şc6, Ka8, a7, a5, d6


26 No'lu problemin çözümü :

1. Kf6.


a) 1. , Şe3
2. Fd4+ , Şe4 veya Şe2
3. FxP+ , Mat

b) 1. , Pg1 = V
2. FxP+ , Şe3
3. Fd4+ , Mat

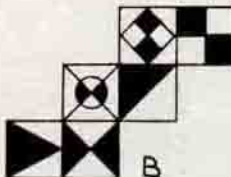
c) 1. , Pg1 = A
2. Fc1 , Şe5
3. Ke6+ , Mat



Hazırlayan : Sadullah ÖKTEM



A



B

YENİ BİLMECELERİMİZ

KÜPLER

Bu 20 küpden hangileri A, hangileri B dir ?

GEÇEN SAYIDAKİ PROBLEMLERİN ÇÖZÜMÜ

$$\begin{array}{r} 7 \times 32 = 224 \\ + \\ 8 + 64 = 72 \\ \hline 56 + 98 = 152 \end{array}$$

