

# ZEKASAYAR

EMREHAN HALICI

## SAYI GRUPLARI



Aşağıdaki sayılar belli bir kurala göre üç gruba ayrılmıştır.

Birinci Grup : 0, 3, 6, 8, 9,.....

İkinci Grup : 1, 4, 7, 11, 14,.....

Üçüncü Grup : 2, 5, 10, 12, 13,.....

Bu durumda 15 sayısı hangi gruba girer?

## SEKİZ TUĞLA



Aynı görüntüye sahip 8 tuğladan 7'sinin ağırlığı aynı, birinin ise biraz daha fazladır. Bir denge terazisi kullanarak sadece 2 tartıda ağır olan tuğlayı nasıl bulursunuz?

## OTOBÜS YOLCULARI



Bir otobüste 14 evli çift var. Bu 14 çiftin 8'i çocuksuz, 6'sı ise beraberinde 3'er çocuk getirmişler. Şoförle beraber otobüste 31 kişi bulunduğuna göre, çelişkili görülen bu durumu açıklayın.

## BİLİM TOPLANTISI

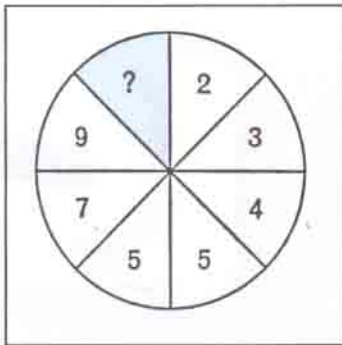


Türkiye'nin birçok üniversitesinden bilim adamlarının katıldığı bir toplantı yapılacaktır. Salt çoğunluğu İstanbullular oluşturduğu için bu şehrin bilim adamları toplantıyı İstanbul'da yapmak istemektedirler. Oysa diğer bilim adamları şehir dağılımını göz önüne alarak bir ortalama bulunması ve buna göre daha merkezde bir şehirde toplanılmasını önermektedirler. Toplantı maliyetini düşük tutmak amacıyla, bilim adamlarının katedeceği toplam mesafeyi en aza indirmek istendiğine göre hangi grup haklıdır?

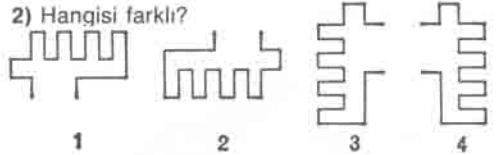
(Düşünme Kutusu'nun cevapları 48. sayfadadır.)

## MİNİ TEST

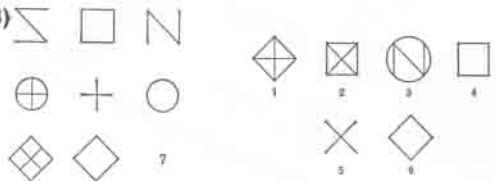
1)



2) Hangisi farklı?



3)



CEVAPLAR : 1) 11, 2) 3, 3) 5