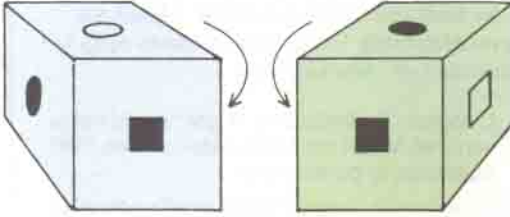


ZEKASAYAR

EMREHAN HALICI

KÜPLER

Şekilde iki küp görülmektedir.



- 1) Bu iki küp tamamen aynıdır.
- 2) Küplerin oklarla işaretlenmiş olan görülmeyen yüzlerinde aynı figür bulunmaktadır.

Oklarla işaretlenmiş olan bu görülmeyen yüzlerdeki figür nedir?


YANLIŞ DENKLEMLER

Şekilde yanlış yerleştirilmiş olan sayıları (1'den 9'a kadar olan sayılar birer kez kullanılmış) doğru yerlerine getirerek eşitlikleri sağlayınız.

$$\begin{array}{l} 1 - 2 = 3 \\ 4 \div 5 = 6 \\ 7 + 8 = 9 \end{array}$$

SAYI ÜÇGENİ

Şekilde görülen sayıları doğru yerlerine yerleştirerek, üçgenin her üç kenarındaki sayıların toplamının 17 olmasını sağlayın.



SORU İŞARETLERİ

Soru işaretlerinin yerine gelecek olan 4 sayıyı bulunuz.

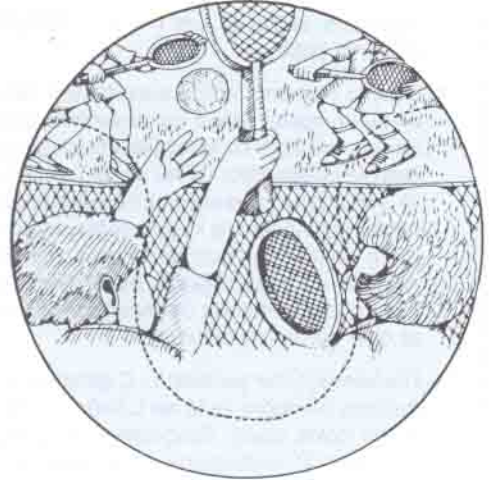
12,1,1,1,2,1,3,?,?,?,?

TENİSCİLER

Anne, baba, oğul ve kız olmak üzere 4 kişilik X ailesi, çiftli bir tenis maçı oynamaktadır:

- 1) Baba, kızının tam karşısında oynamaktadır.
- 2) Oğlan, en kötü oyuncunun çaprazlama karşısındadır.
- 3) En iyi ve en kötü oyuncu yan yana oynamaktadır.

En iyi oyuncu kimdir?




BOKSÖRLER

Ali, Bekir ve Can adlı üç boksörden ikisi şampiyonluk için final maçı yapacaktır.

- 1) Ali ve Bekir'in kısa olanı, finalistlerin yaşlı olanıdır.
- 2) Bekir ve Can'ın genç olanı, finalistlerin kısa olanıdır.
- 3) Ali ve Can'ın uzun olanı, finalistlerin genç olanıdır.

Finalist olmayan boksör hangisidir?



(Düşünme Kutusu'nun cevapları 45. sayfadadır.)