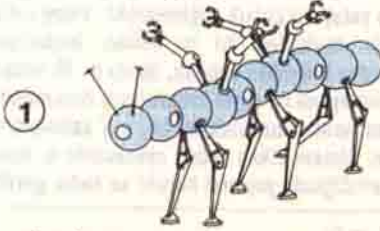


DÜŞÜNME KUTUSU

Hazırlayan: Doç. Dr. Selçuk ALSAN

ROBOTLAR

- Aşağıda 1. ve 2. robotun adı verilmiştir:
3. robotun adı şu üçünden hangisidir:
a. DUOGRABBATERRIPPENTAGLING
b. DIRIPTRIGRABBABIGLING
c. TERGRABBAOUIINOUARIPOUADRIRIP
(Anten, kol ve bacak sayısı isimde belirtilmektedir, ayrıca mono = 1 vb)



BİBLİNGOADRİGRABBASEXRİP



PENTAGRABBA
MONOGLİNG
TETRİRİP

DOĞUM GÜNÜ

Bir sınıfta her öğrencinin doğum gününün birbirinden farklı olması ihtimali şunlardan hangisidir:
% 87, % 47, % 28, % 12, % 3

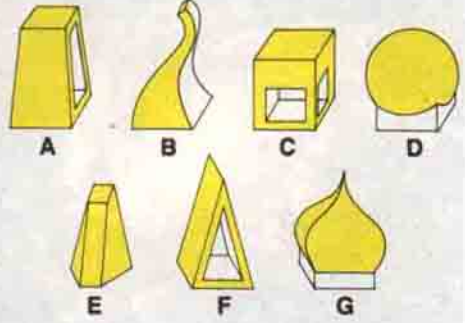
KARELER

Soru işareti yerine nasıl bir şekil gelmelidir?



YABANCI

Bu 7 şekilden hangisi diğerlerinden farklıdır?

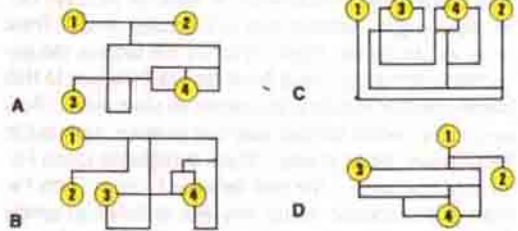


SATRAH TAHTASI VE PARALAR

64 karelik bir satranç tahtası var. Karelerin her kenarı 3 cm. Elinizde çapı 3 cm. olan madeni paralar var. Satranç tahtası sınırlarını aşmamak ve üst-üste yığmamak şartı ile satranç tahtası üzerine en çok kaç adet para yerleştirebilirsiniz? (64 değil)

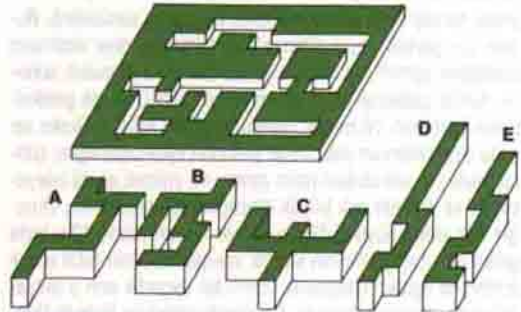
DÖRT DEVRE

Bu dört devreden ikisi birbirinin aynıdır, hangileri?



OYMALAR

A'dan E'ye kadar olan parçalar üst şekildeki oyulmuş yerlere oturabilir, yalnız bir parça bu oyulmuş yerlere uymamaktadır, hangisi?



Geçen sayımızdaki "ZEKASAYAR" köşesinde yer alan soruların yanıtları 13. sayfamızdadır.