

Düşünme Kulesi

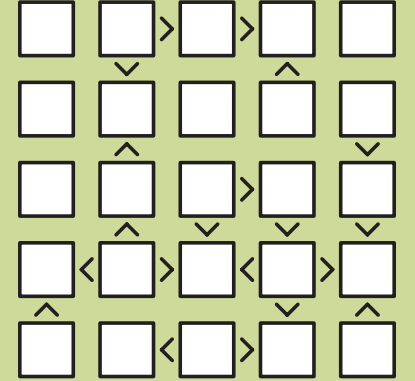
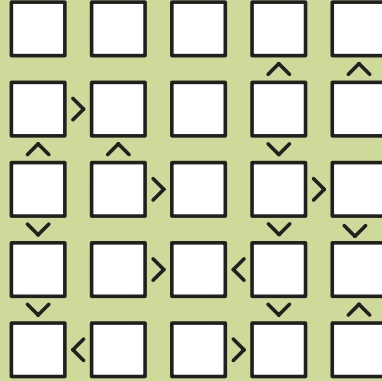
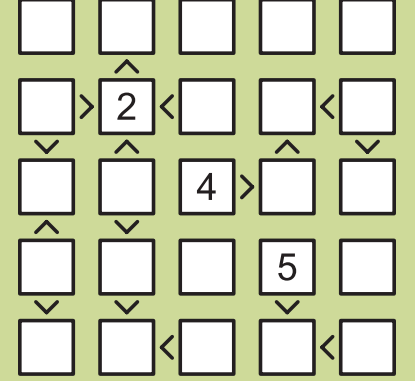
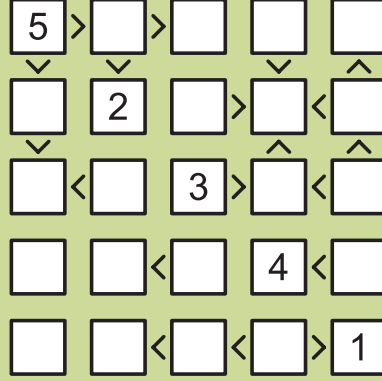
Ferhat Çalpakulu [dusunme.kulesi@tubitak.gov.tr]

Ayın Oyunu: **FUTOŞİKİ**

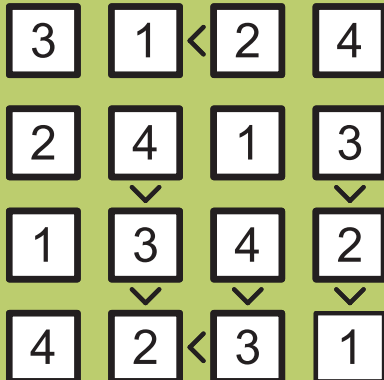
Futoşiki Oyununun Kuralları

Her satırda ve her sütunda 1'den 5'e rakamlar tam olarak bir kez yer alacak şekilde diyagramı doldurun.

Hücrelerdeki rakamlar arasındaki ilişki büyük (>) ve küçük (<) işaretleri ile belirtilmiştir.



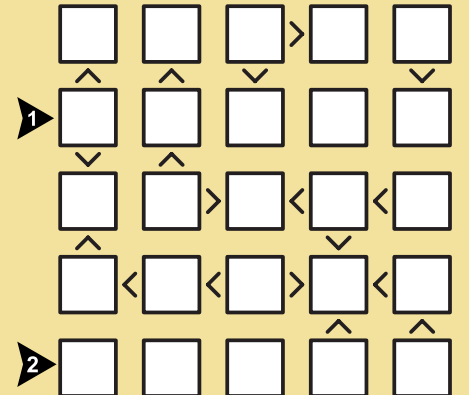
Futoşiki - Örnek Çözüm



Ödüllü soru

▼ FUTOŞİKİ sorusunu çözüp ok doğrultusundaki içeriği yazarak, ad, soyad ve adres bilgileri ile birlikte dusunme.kulesi@tubitak.gov.tr adresine gönderenler arasından çekilişle belirlenecek 10 kişiye TÜBİTAK Popüler Bilim Kitapları tarafından yayımlanmış *İnternetin Geçmişi ve Dijital Gelecek* başlıklı kitap hediye edilecek. Çekiliş sonuçları dergimizin facebook ve twitter hesaplarından önümüzdeki ayın ilk haftasında duyurulacak. Geçen ayın ödüllü Toplamlı Apartmanlar sorusunu doğru yanıtlayan ve kitap ödülü kazanan okurlarımızın listesi facebook ve twitter hesaplarımız üzerinden duyuruldu.

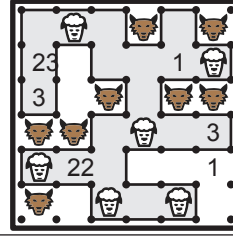
www.bilimteknik.tubitak.gov.tr



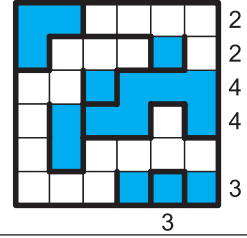
Ok doğrultusundaki içeriği yazın.

Örnek çözümün ilk satırı 3124 şeklinde yazılmalıdır.


Kurtlar ve Kuzular Örnek Çözüm



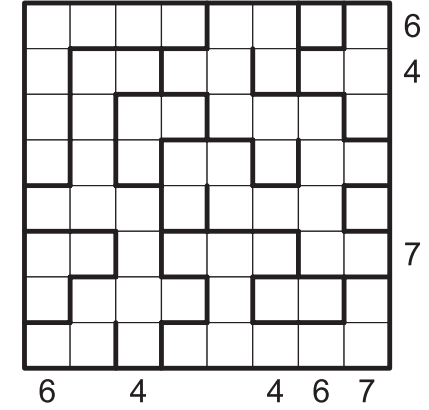
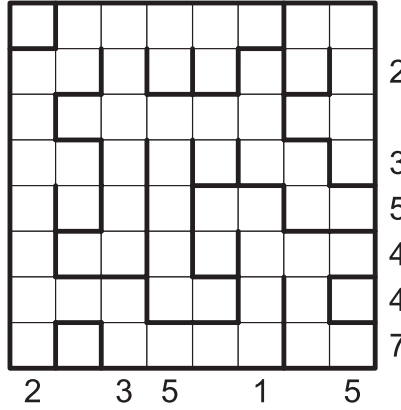
Su Kapları Örnek Çözüm



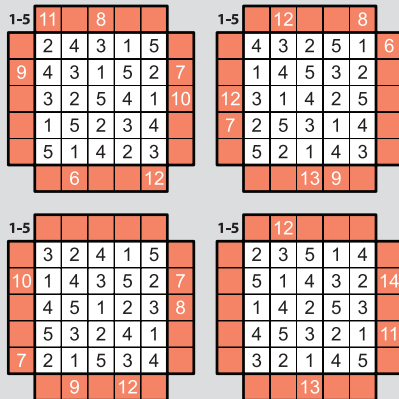
Kurtlar ve Kuzular: Çit oyununun bir türevi olan Kurtlar ve Kuzular oyununda amaç, noktaları yatay ve dikey çizgilerle birleştirerek kapalı tek bir çit oluşturmaktır. Rakamlar buldukları hücrenin kaç kenarının çitin parçası olduğunu göstermektedir. Ayrıca tabloda ki kurtlar çitin dışında, kuzular ise içinde kalmalıdır.



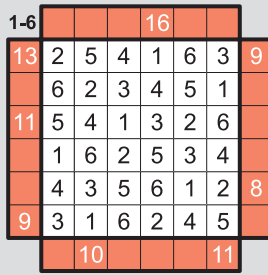
Su Kapları: Tablodaki farklı şekillerde ve boyutlardaki su kaplarını doldurun. Kaplara alttan yukarı doğru, bağlantılardaki boşlukları da göz önünde bulundurarak su dolmaktadır ve her hücre tamamen dolu veya boş olmalıdır. Dışarıda verilen sayılar ilgili satır veya sütundaki dolu hücre sayısını göstermektedir.



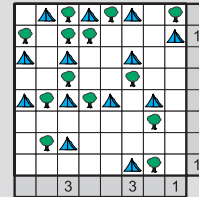
Geçen Sayının Çözümleri



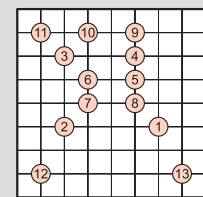
Toplamlı Apartmanlar



Ödüllü Soru: Toplamlı Apartmanlar



Çadır



Hiroimono