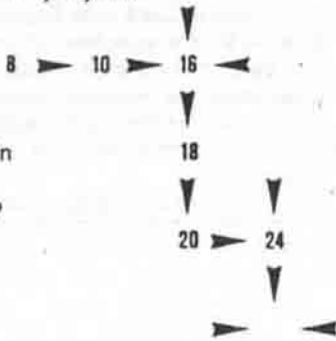


İSTASYONLAR

Daireler istasyonları, çizgiler ise yolları gösteriyor. A'dan A'ya, B'den B'ye, C'den C'ye, D'den D'ye ve E'den E'ye gitmenizi istiyoruz. Ancak yollar kesişmeyecek.

OKLAR



Soru işaretinin yerine hangi sayı gelecek?


ŞAİR MATEMATİKÇİ

Bir matematikçi arkadaşına şunları söyledi: "Ben senin yaşındayken, senin yaşının iki katı şu an benim yaşımdır."

Sen benim yaşına gelince, yaş toplamlarımız 63 olacak arkadaşım."
Şair matematikçi ve arkadaşı kaç yaşındadır?

TOPLAR

Bir grup öğrenci, 217 adet topu aralarında paylaşmıştır. Matematik öğretmeni en çok topa sahip olan öğrencinin toplarını diğer bütün öğrencilerin toplarını iki misline çıkaracak şekilde dağıtmasını söyler. Bu işlemin sonunda topların paylaşım miktarlarında hiçbir değişiklik olmaz, yalnızca öğrenciler değişmiştir. Grupta kaç öğrenci ve kaç top olduğunu bulunuz. (İpucu: Gruptaki öğrenci sayısı 3'ten fazladır.)



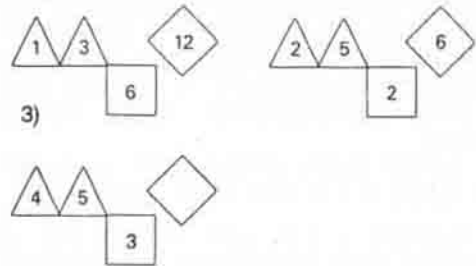
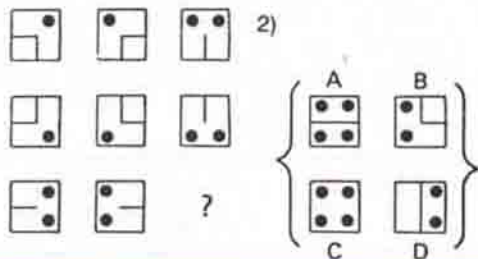
ELMALAR VE CEVİZLER

Ahmet 7 elma toplar, Burhan ise 8. Cengiz hiç elma toplamadığı halde, üçü birden otururlar ve elmaları eşit olarak yerler. Cengiz, bunun karşılığında 30 adet cevizi Ahmet ve Burhan arasında paylaşmayı düşünür. Yaptığı hesaba göre 14 ceviz Ahmet'e, 16 ceviz de Burhan'a verir. Ancak Burhan, bu dağıtımın itiraz eder. Siz hakem olup karar verir misiniz?

İNİ TEST

1. Sinan, Ahmet'ten sonradır. Kemal, Zeynep'ten öncedir. Çetin, Birol'dan sonradır. Lale, Orhan'dan öncedir.

Sinan'la Orhan arasındaki ilişki nasıldır?



CEVAPLAR: 1) Sinan, Orhan'dan sonradır. (Herkes harf sırasına göre sıraldır.) 2) C 3) 3

Geçen sayımızdaki Düşünme Kutusu'nda yer alan soruların yanıtları 17. sayfadadır.