

ZEKASAYAR

EMREHAN HALICI

MAKASLAR

Aynı makasların aynı sayıyı ifade ettiği bu tabloda, makasların toplamları şekilde verilmiştir.

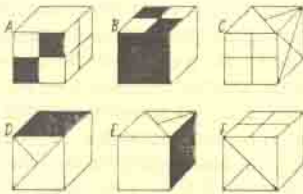
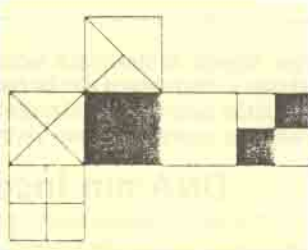
Soru işaretinin yerine gelecek olan sayıyı bulunuz.

(Yaratıcılığınızı kullanırsanız, çok kolay bir çözüm yolu bulabilirsiniz.)

				?
				290
				271
				290
296	284	265	289	295

HANGİ KÜPLER?

Yandaki şeklin katlanmasıyla aşağıdaki küplerin hangileri elde edilebilir?



SUÇLULAR

Detektif X, banka soygunu ile ilgili yaptığı araştırma sonuçlarını detektif Y'ye şöyle açıklar:

1. A, B ve C dışında hiçkimse suçlu olamaz. Bunun arasında en az biri suçludur.
2. Eğer A suçlu ve B suçsuz ise, C de suçludur.
3. C, tek başına soygun yapmaz.
4. A, C ile beraber soygun yapmaz.

Detektif X: "Evet dostum, bu bilgilerden yola çıkarak, kimlerin suçlu ve kimlerin suçsuz olduğunu bulabilir misin?"

Detektif Y: "Hayır. Üçünün birden suçlu olup olmadıklarını bulmak imkansız. Ancak içlerinden sadece birinin suçlu olup olmadığı, kesinlikle bu bilgilere dayanarak bulunabilir."

Suçlu olduğuna kesinlikle karar verilebilen kimdir?

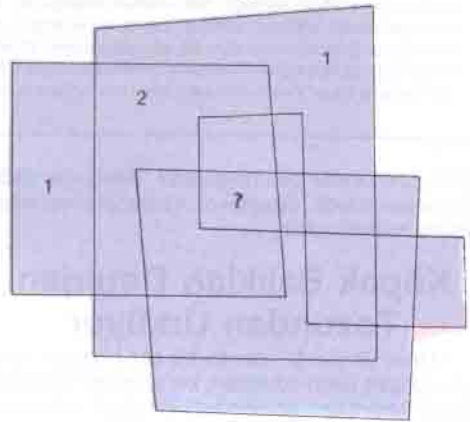
KOLYE

Altın, gümüş ve bakır işlemeli üç mücevher kutusunun birinde kıymetli bir kolye bulunmaktadır.

ALTIN	GÜMÜŞ	BAKIR
KOLYE BU KUTUDA	KOLYE BU KUTUDA DEĞİL	KOLYE ALTINLI KUTUDA DEĞİL

Kutularda yazılı olan önermelerden en fazla birinin doğru olabileceğini söylersek, kolyenin hangi kutuda olduğunu bulabilir misiniz?

SORU İŞARETİ



Soru işaretinin yerine hangi sayının geleceğini bulunuz

SAYI TURU

GÖREV: A'dan başlayarak B'ye gitmek.

AMAÇ: Maksimum sayı toplamını elde etmek.

KURAL: 1. Bulduğunuz kareye komşu bir kareye gidebilirsiniz.

2. Yalnızca sağa ve/veya yukarı doğru gidebilirsiniz.

56	65	19	25	65
34	20	9	6	19
9	6	9	20	65
34	20	9	6	9
19	25	46	56	65

Bu köşenin hazırlanmasında zekâ düzeyi ve zekâ söz sanatıyla ilgili çalışmalar yapan uluslararası bir kuruluş olan MENSA'nın kaynaklarından yararlanılmaktadır.

(Düşünme Kutusu'nun cevapları 61. sayfadadır.)