


## SIRAYA DİZİN

Aşağıdaki dört resmi, olayın gerçekleşme şekline göre sıraya dizin.



## DÖRT ÇİFT

Bir partide eğlenmekte olan dört çiftin adları şunlardır:

Emel, Jale, Müjde, Nurcan, Sami, Vehbi, Bekir ve Mümtaz.

1) Bekir'in hanımı, kendi kocasıyla değil, Emel'in kocasıyla dans etmektedir.

2) Sami ve Nurcan dans etmemektedir.

## MİNİ TEST



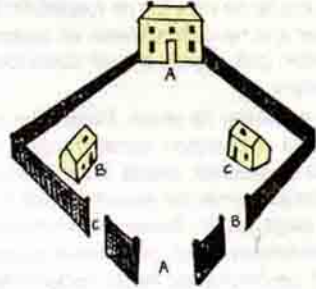
3) 9, 4, 8, 5, 7, 6?

3) Vehbi parti boyunca gitar, Müjde ise piyano çalmıştır.

Nurcan'ın kocası Vehbi olmadığına göre, Sami'nin hanımı kimdir?

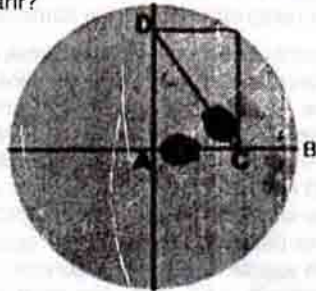
## EVLER VE YOLLAR

A'dan A'ya, B'den B'ye ve C'den C'ye yol yapmanızı istiyoruz. Ancak şartımız yolların birbirini kesmemesi.

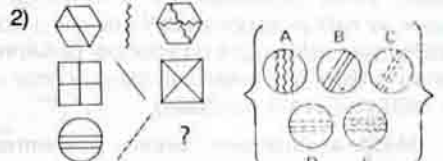


## UĞUR BÖCEKLERİ

Bir uğur böceği A'dan B'ye, diğeri de C'den D'ye doğru aynı anda hareket etmişlerdir. Hızları aynı olduğuna göre, hangisi hedefine daha önce varır?



(Geçen sayıda yayınlanan Düşünme Kutusu'nun cevapları sayfa 8'dedir.)



CEVAPLAR : 1) B, 2) C, 3) 6,7