


Hangisi Doğru?

Çizimde gördüğünüz robotun başlangıç noktasından şarj istasyonuna kadar gitmesi gerekiyor. Yan sayfada dört farklı komut bloku var. Bu komut bloklarından sadece biri robotu başlangıç noktasından şarj istasyonuna ulaştırıyor. Doğru komut bloku bulabilir misiniz? Robotun her hareketi için bir komuta ihtiyacınız olduğunu unutmayın.

Doğru komutları bulmak için <https://code.org/> internet sitesindeki 3. kursun içindeki dersleri inceleyebilirsiniz.




Başlangıç
Noktası

Şarj
İstasyonu

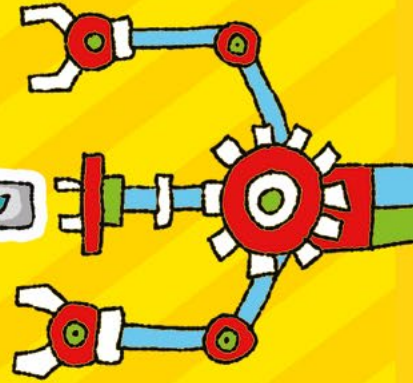
1

```
Çalıştığı zaman
kadar tekrarla
yap ilerle
eğer sağa doğru yol varsa
yap sağa dön
değilse sola dön
```



2

```
Çalıştığı zaman
kadar tekrarla
yap eğer ileride yol varsa
yap ilerle
değilse eğer sağa doğru yol varsa
yap sağa dön
değilse sola dön
```



3

```
Çalıştığı zaman
eğer ileride yol varsa
yap ilerle
değilse eğer sağa doğru yol varsa
yap sağa dön
değilse sola dön
```



4

```
Çalıştığı zaman
kadar tekrarla
yap eğer ileride yol varsa
yap eğer sağa doğru yol varsa
yap sağa dön
değilse sola dön
değilse
```

